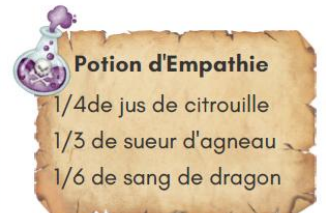
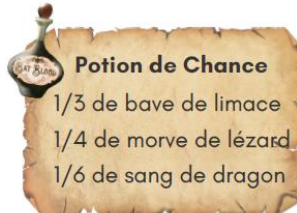
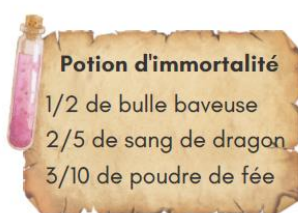
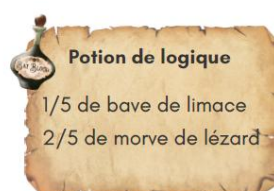
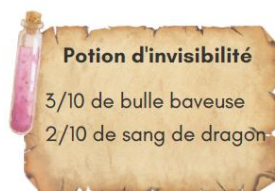
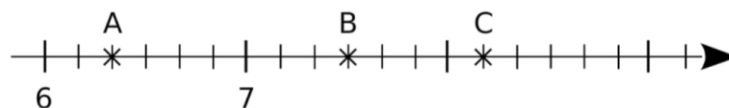


Exercice 1

Remplir les fioles graduées en respectant les proportions de chaque ingrédient afin de réaliser les potions suivantes :



Exercice 2 On considère la demi-droite graduée suivante :



a. Donne l'abscisse des points A, B et C.

A (); B () et C ()

b. Place les points D $\left(\frac{47}{6}\right)$; E $\left(\frac{13}{2}\right)$ et F $\left(\frac{26}{3}\right)$.

Exercice 3

Jouer avec votre binôme au memory des fractions...