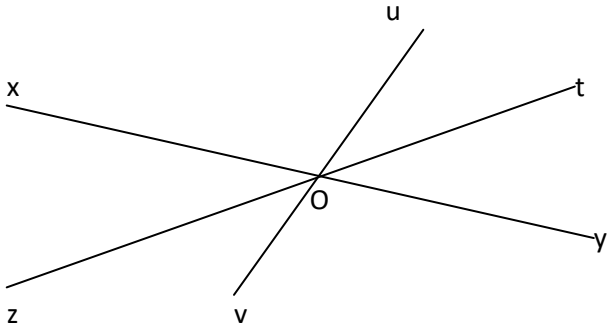
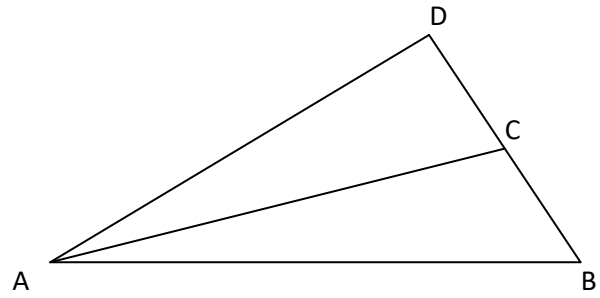


EXERCICE 1 →

- Marquer en **bleu** l'angle \widehat{CDA}
- Marquer en **rouge** l'angle \widehat{BAC}
- Marquer en **vert** l'angle \widehat{DBA}
- Marquer en **noir** l'angle \widehat{CAD}

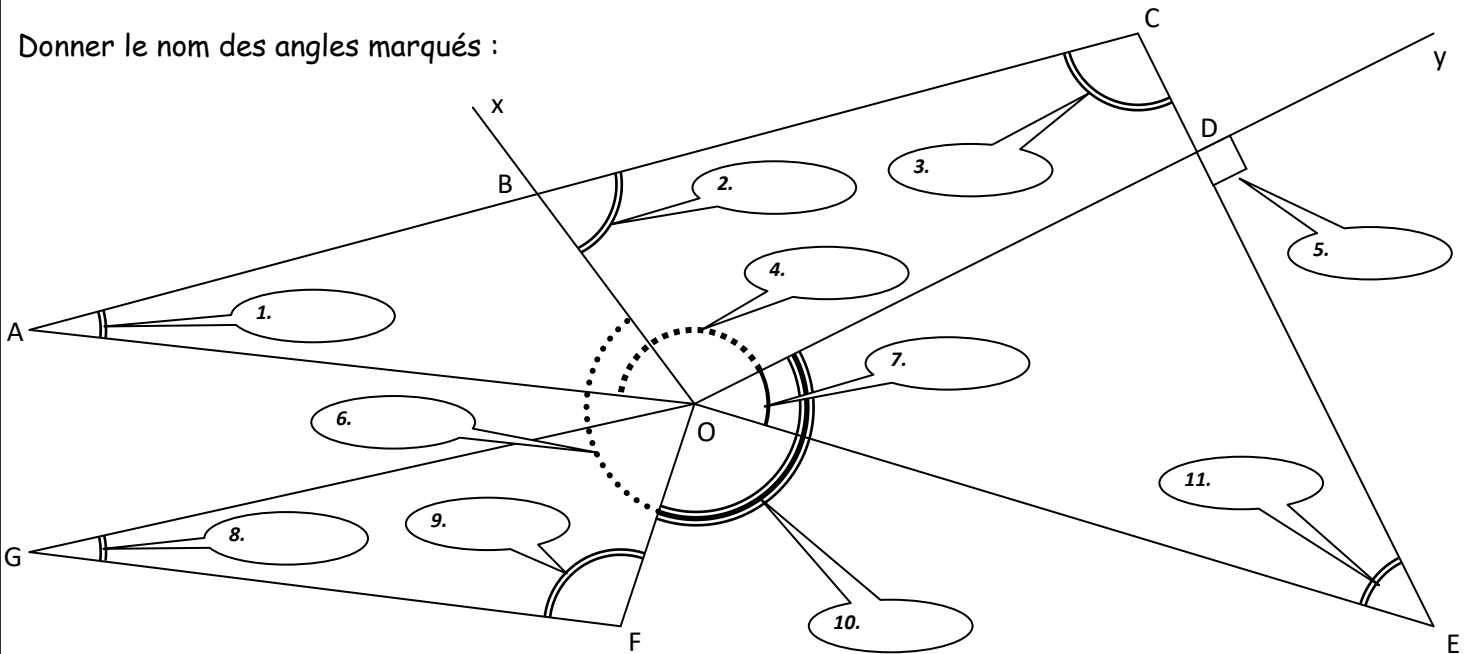


← **EXERCICE 2**

- Marquer en **bleu** l'angle $x\widehat{O}u$
- Marquer en **rouge** l'angle $u\widehat{O}t$.
- Marquer en **vert** l'angle $y\widehat{O}z$.
- Marquer en **noir** l'angle $x\widehat{O}t$.

EXERCICE 3

Donner le nom des angles marqués :



Donner le nom des côtés de l'angle n° 1 :

Donner le nom des côtés de l'angle n° 4 :

Donner le nom des côtés de l'angle n° 10 :

Donner le nom des côtés de l'angle n° 8 :

Donner le nom des côtés de l'angle n° 5 :