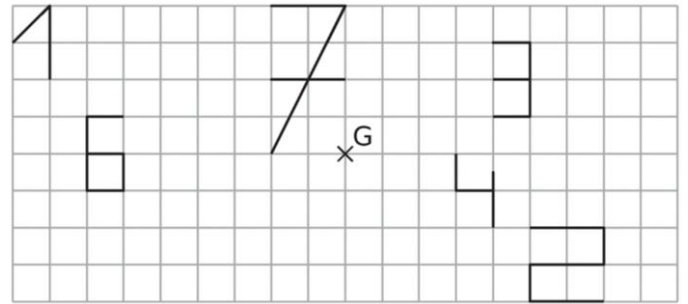


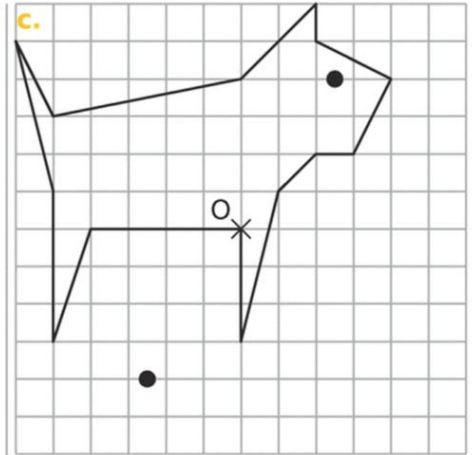
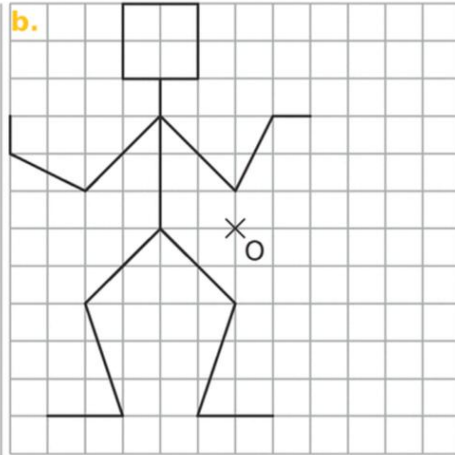
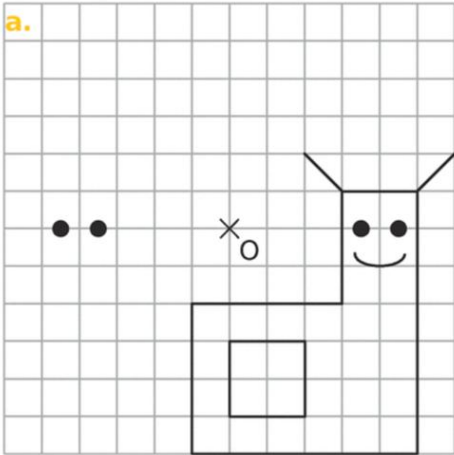
EXERCICE 1

Construire le symétrique de chaque chiffre par rapport au point G



EXERCICE 2

Construire le symétrique de chaque figure par rapport au point O.



EXERCICE 3

Construire les cocottes suivantes :

- Une cocotte **bleue** symétrique de la cocotte **grise** ABCDEFGHI par rapport à O_1
- Une cocotte **rouge** symétrique de la cocotte **grise** ABCDEFGHI par rapport à O_2 .
- Une cocotte **jaune** symétrique de la cocotte **grise** ABCDEFGHI par rapport à O_3 .

