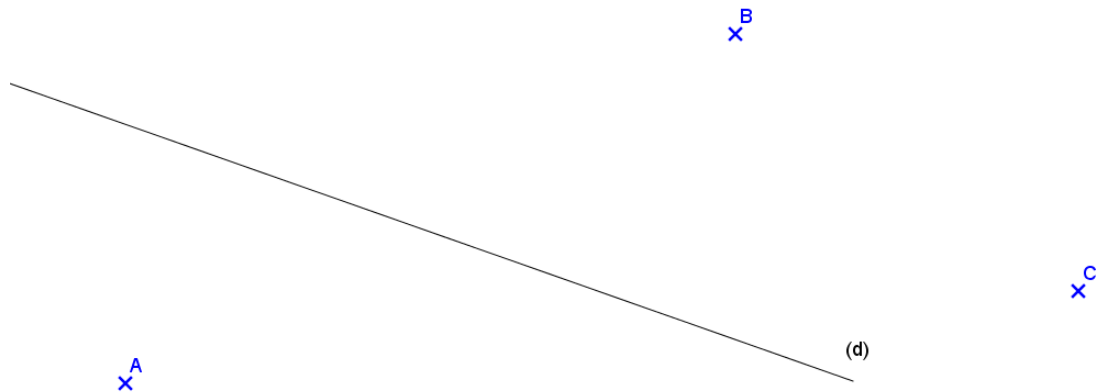


Exercice 1

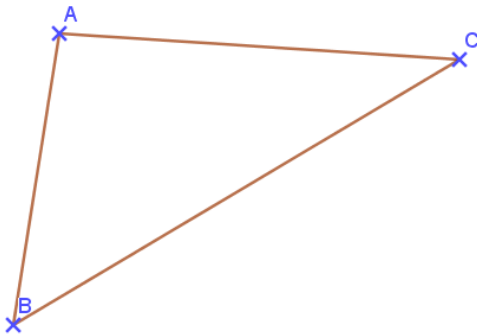
Construire les droites perpendiculaires à la droite (d) passant par les points A, B et C :



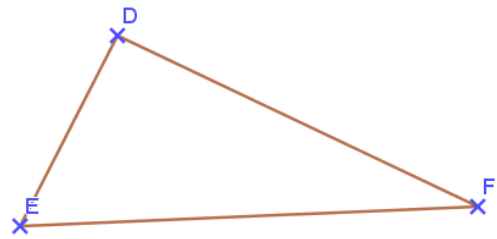
Exercice 2

Dans chacun des triangles suivants, tracer la hauteur demandée :

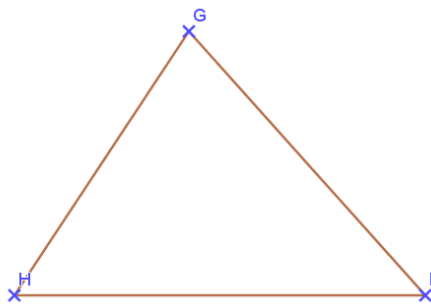
a. La hauteur issue de A :



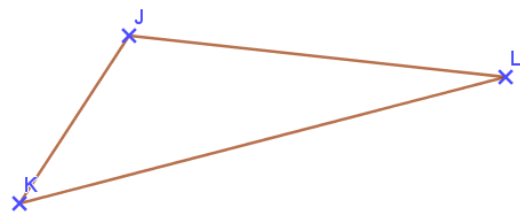
b. La hauteur issue de D :



c. La hauteur issue de I :



d. La hauteur issue de L :



Exercice 3

Placer, dans les deux cas suivants, l'orthocentre O du triangle ABC :

