
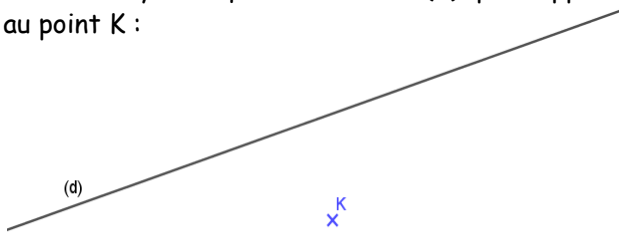


EXERCICE 1

Tracer à main levée le symétrique de la figure par rapport au point O.

**EXERCICE 3**

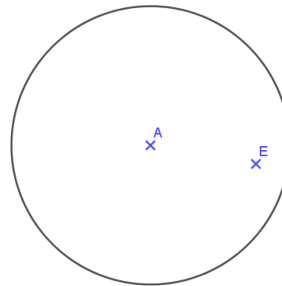
Tracer le symétrique de la droite (d) par rapport au point K :

**EXERCICE 2**

Tracer le symétrique du point A par rapport au point B :

**EXERCICE 4**

Tracer le symétrique du cercle de centre A par rapport au point E :

**EXERCICE 5**

Tracer le symétrique du triangle ABC et le symétrique du quadrilatère EFGH par rapport au point D : :

