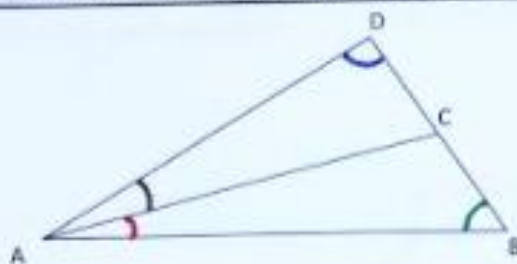


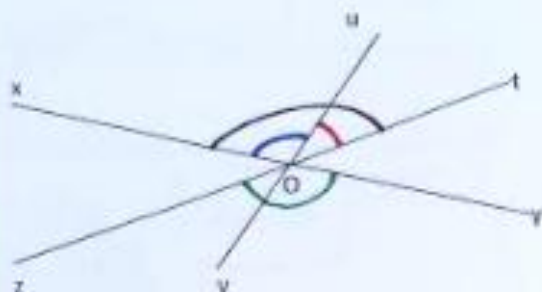
EXERCICE 1 →

1. Marquer en bleu l'angle \widehat{CDA}
2. Marquer en rouge l'angle \widehat{BAC}
3. Marquer en vert l'angle \widehat{DBA}
4. Marquer en noir l'angle \widehat{CAD}



← EXERCICE 2

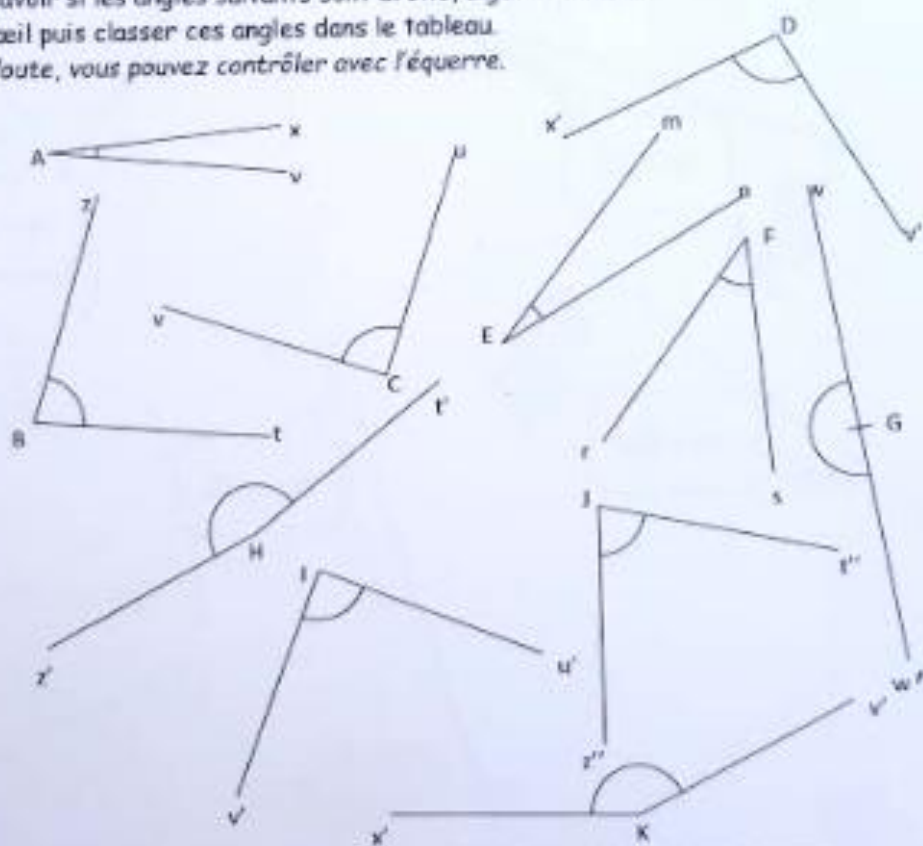
1. Marquer en bleu l'angle \widehat{xOv}
2. Marquer en rouge l'angle \widehat{uOt}
3. Marquer en vert l'angle \widehat{yOz}
4. Marquer en noir l'angle \widehat{xOt}



EXERCICE 3 On veut savoir si les angles suivants sont droits, aigus ou obtus.

Estimer à vue d'œil puis classer ces angles dans le tableau.

NB : En cas de doute, vous pouvez contrôler avec l'équerre.



Angles AIGUS	\widehat{xAy} , \widehat{yBt} , \widehat{uCv} , \widehat{mEn} , \widehat{xFs} , $\widehat{z'Jt'}$
Angles DROITS	$\widehat{u'v'}$
Angles OBTUS	$\widehat{x'Dv'}$, $\widehat{z'He'}$, $\widehat{x'Kv'}$

Angle plat : $\widehat{wGw'}$