





# CHAP 1

# Premiers éléments de géométrie

## Sommaire

- I. Point, segment, demi-droite, droite
- II. Appartenir, être aligné

## Synthèse des compétences

Je dois savoir...	Maîtrise Insuffisante 	Maîtrise Fragile 	Maîtrise Satisfaisante 	Très Bonne Maîtrise 	Exercices d'application	Pour préparer le contrôle
Reconnaître et nommer un point, un segment, une droite, une demi-droite					Fiche N°1	N° 49 p222 N° 1 p 225
Tracer un point, un segment, une droite, une demi-droite					Fiche N°2	N° 18 p 218 N° 2 p 213
Connaître et utiliser la signification des symboles $\in$ et $\epsilon$					Fiche N°3 N° 20 p 218 N° 34/35p 220	Refaire les exercices faits en classe
Reconnaître si des points sont alignés					Fiche n°3 N° 34/35p 220	





# CHAP 1

# Premiers éléments de géométrie

## Sommaire

- I. Point, segment, demi-droite, droite
- II. Appartenir, être aligné

## Synthèse des compétences

Je dois savoir...	Maîtrise Insuffisante 	Maîtrise Fragile 	Maîtrise Satisfaisante 	Très Bonne Maîtrise 	Exercices d'application	Pour préparer le contrôle
Reconnaître et nommer un point, un segment, une droite, une demi-droite					Fiche N°1	N° 49 p222 N° 1 p 225
Tracer un point, un segment, une droite, une demi-droite					Fiche N°2	N° 18 p 218 N° 2 p 213
Connaître et utiliser la signification des symboles $\in$ et $\epsilon$					Fiche N°3 N° 20 p 218 N° 34/35p 220	Refaire les exercices faits en classe
Reconnaître si des points sont alignés					Fiche n°3 N° 34/35p 220	